

LOCALIZAÇÃO - PONTOS CARDEAIS

POR MEIO DA OBSERVAÇÃO DO SOL, É POSSÍVEL DETERMINAR OS PONTOS DE ORIENTAÇÃO QUE SÃO OS PONTOS CARDEAIS.

O LADO EM QUE O SOL APARECE, AO AMANHECER, É APROXIMADAMENTE O **LESTE**, TAMBÉM CHAMADO DE NASCENTE. O LADO OPOSTO, ISTO É, O LADO EM QUE O SOL SE ESCONDE (DESAPARECE), AO ANOITECER, É O **OESTE** OU POENTE.



RECORTE AS PALAVRAS E COLE DE ACORDO
COM OS PONTOS CARDEAIS



NORTE

SUL

LESTE

OESTE

NA ILUSTRAÇÃO A SEGUIR, CONSIDERE QUE O SOL APARECE PELA MANHÃ NA DIREÇÃO DA PARTE DE TRÁS DA IGREJA.



TOMANDO COMO REFERÊNCIA A PRAÇA, RESPONDA:

a) O QUE ESTÁ AO **LESTE** DA PRAÇA?

() IGREJA () ESCOLA () HOSPITAL () CASAS

b) O QUE ESTÁ AO **OESTE** DA PRAÇA?

() IGREJA () ESCOLA () HOSPITAL () CASAS

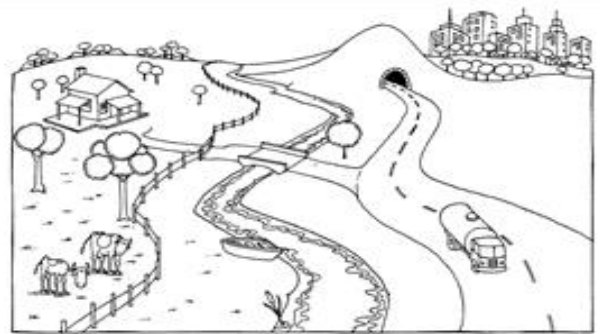

c) E AO **NORTE** DA PRAÇA?

() IGREJA () ESCOLA () HOSPITAL () CASAS

d) E AO **SUL** DA PRAÇA?

() IGREJA () ESCOLA () HOSPITAL () CASAS

PINTE SÓ AS PAISAGENS **NATURAIS**



FAÇA UM **X** NA PAISAGEM **MODIFICADA**



MODIFICADA



NATURAL

PROCURE GRAVURAS DE PAISAGENS NATURAIS E PAISAGENS CONSTRUÍDAS E COLE NOS ESPAÇOS ABAIXO;

PAISAGENS NATURAIS

PAISAGENS CONSTRUÍDAS

RURAL E URBANA

RURAL É ONDE SE PLANTA.


AS CASAS FICAM LONGE UMAS DAS OUTRAS

URBANA É ONDE TEM FÁBRICAS AS


CASAS FICAM PERTO. UMAS DAS OUTRAS

RURAL = CAMPO | URBANA = CIDADE

MARQUE COM UM X O QUE TEM NA ZONA URBANA E NA ZONA RURAL. .

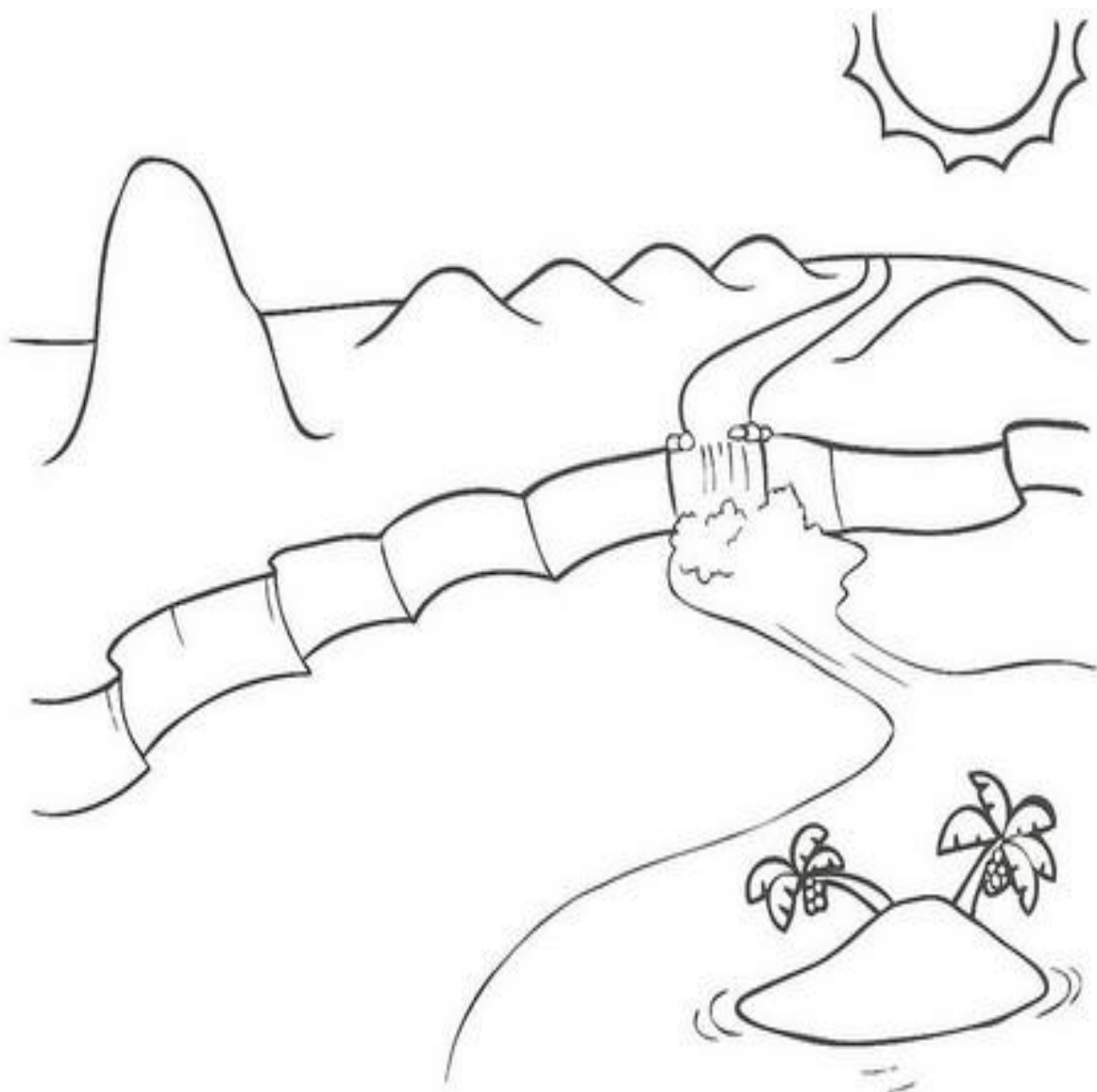
	ZONA UR BANA	ZONA RU RAL
ESTRADAS DE TERRA		
MUITAS CASAS E PRÉDIOS		
CARROS, ÔNIBUS, CAMINHÕES...		
CASAS SIMPLES		
CARROS DE BOI E CARROÇAS		
GRANDES AVENIDAS		
MUITAS LOJAS		
POUCOS MORADORES		
MUITAS PLANTAÇÕES		
RUAS ASFALTADAS E MOVIMENTADAS		
FUMAÇA DE FABRICAS		
CRIAÇÃO DE GADO		

OBSERVE E PINTE O RELEVO A SEGUIR:



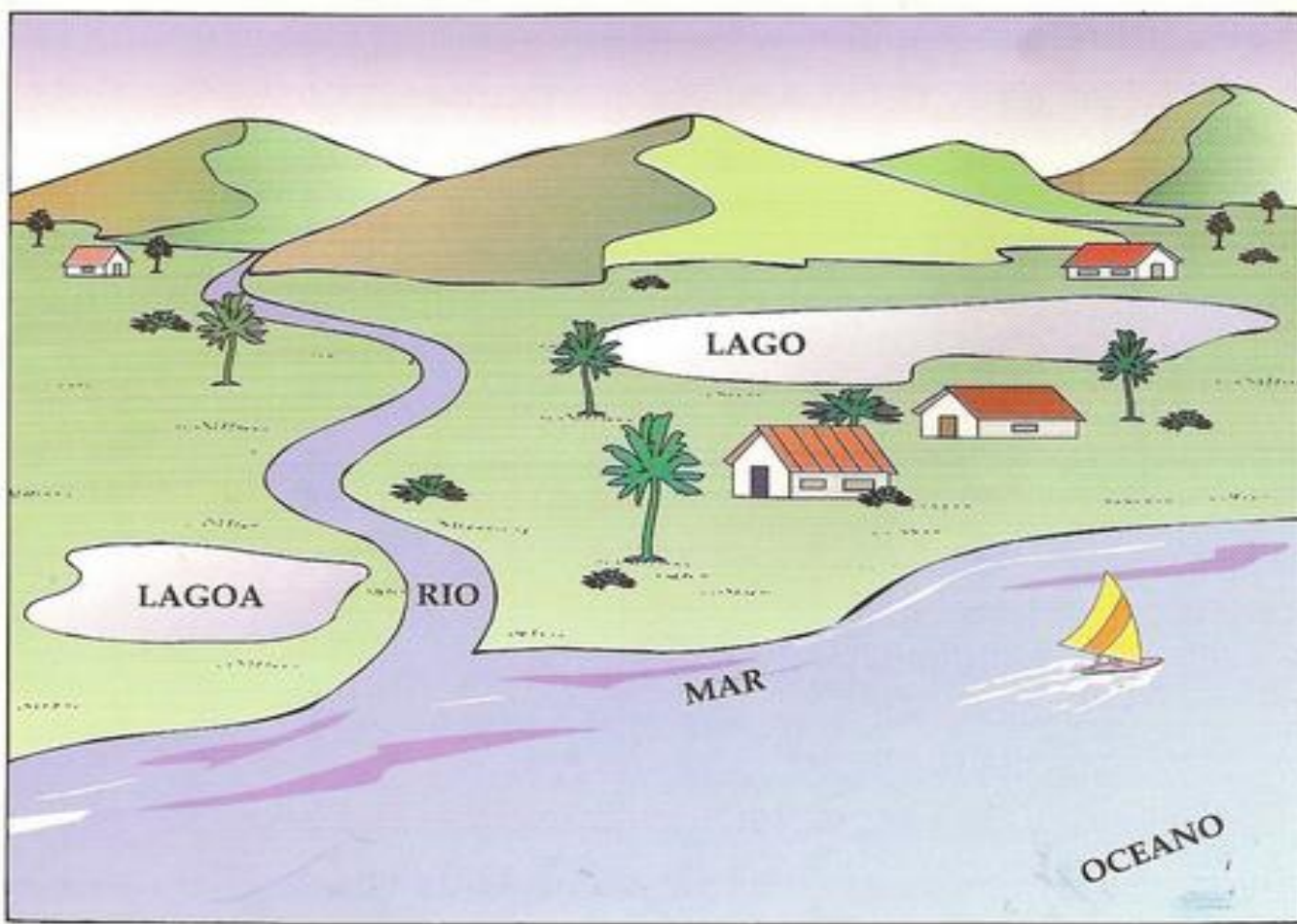
<http://bancodeatividades.blogspot.com.br/2012/08/geografia-relevo.html>

RECORTE E COLE O NOME DAS FORMAS DE RELEVO



http://www.atividadesedesenhos.com/2012/07/atividades-eja-ciencias-e-geografia-ens_9589.html


MORRO	SERRA	PLANALTO
MONTANHA	ILHA	PLANÍCIE



COPIE DA IMAGEM OS ELEMENTOS QUE FAZEM PARTE DA HIDROGRAFIA.

1-
2-
3-
4-
5-

OBSERVE O CAMINHO QUE UM RIO PERCORRE DESDE A NASCENTE ATÉ A FOZ.



DICAS DE ECONOMIA



DESLIGUE O CHUVEIRO AO SE ENSABOAR.



AO ENSABOAR A LOUÇA FECHÉ A TORNEIRA.




FECHÉ A TORNEIRA QUANDO ESCOVAR OS DENTES.



AO ESFREGAR AS ROUPAS, NÃO DEIXE A TORNEIRA ABERTA.

RECURSOS NATURAIS

OS RECURSOS NATURAIS SÃO ENCONTRADOS NA NATUREZA E SERVEM DE MATÉRIA PRIMA PARA A INDÚSTRIA.



ESCREVA O NOME DE ALGUNS RECURSOS NATURAIS QUE VOCÊ VÊ NA IMAGEM.

1-	2-
3-	4-
5-	6-

RECURSOS NATURAIS SÃO DE DOIS TIPOS.

RENOVÁVEIS – QUE SE RENOVA



SOLO




ÁGUA



VEGETAÇÃO



ANIMAIS



SOL



VENTO

NÃO RENOVÁVEIS – ACABA E NÃO SE RECOMPÕE MAIS, EX.



CARVÃO



PETRÓLEO



OURO

RECORTE AS IMAGENS DA PRÓXIMA PÁGINA E COLE NOS ESPAÇOS ABAIXO.



COLAGEM

ANIMAIS

PLANTAS

PLANTAS